

Ustrój Rzeczypospolitej Polskiej

Test podsumowujący rozdział V

imię i nazwisko

klasa

data

0-1 p.

1 Przeczytaj tekst i zaznacz właściwe dokończenie zdania.

Ustawa z dnia 11 lutego 2016 r. o pomocy państwa w wychowywaniu dzieci (fragment)

Art. 1.1. Ustawa określa warunki nabywania prawa do świadczenia wychowawczego oraz zasady przyznawania i wypłacania tego świadczenia. [...]

Art. 4.1. Celem świadczenia wychowawczego jest częściowe pokrycie wydatków związanych z wychowywaniem dziecka, w tym z opieką nad nim i zaspokojeniem jego potrzeb życiowych.

Źródło: <http://prawo.sejm.gov.pl/>.

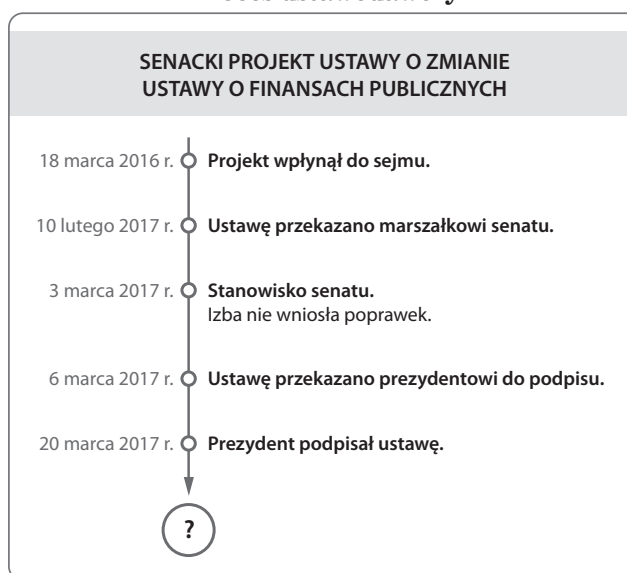
Przytoczone przepisy są przykładem realizowania przez państwo funkcji

- A. gospodarczej.
- B. porządkowej.
- C. administracyjnej.
- D. socjalnej.

2 Zapoznaj się ze schematem i zaznacz właściwe dokończenia podanych zdań.

0-2 p.

Proces ustawodawczy



2.1. W pracach nad wskazaną ustawą inicjatywa ustawodawcza należała do

- A. Rady Ministrów.
- B. grupy posłów.
- C. senatu.
- D. prezydenta.

2.2. Etapem procesu ustawodawczego oznaczonym na schemacie znakiem ? jest

- A. ogłoszenie ustawy w *Dzienniku Ustaw*.
- B. skierowanie ustawy do Trybunału Konstytucyjnego.
- C. przekazanie ustawy sejmowi do ponownego rozpatrzenia.
- D. przeprowadzenie referendum zatwierdzającego ustawę.

Grupa B

3 Zapoznaj się z zamieszczonymi informacjami i zaznacz właściwe dokończenie zdania.

0–1 p.

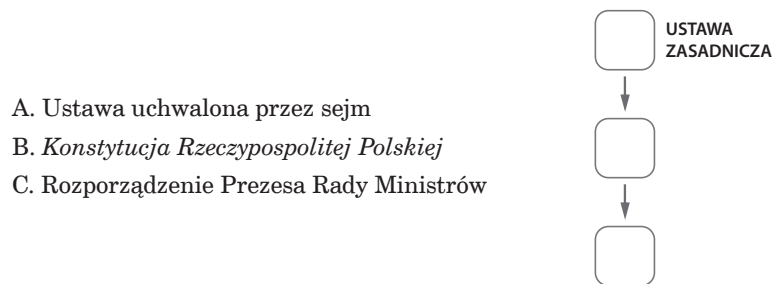
1. W 2003 r. Sejmik Województwa Mazowieckiego przyjął uchwałę dotyczącą projektu statutu województwa.
2. W 2010 r. mieszkańcy Lubartowa wypowiedzieli się w referendum na temat odwołania burmistrza.
3. W 2015 r. obywatele polscy w powszechnym głosowaniu wybrali posłów i senatorów.
4. W 2016 r. prezydent podpisał ustawę o zmianie ustawy o systemie oświaty.

Działania typowego dla demokracji bezpośredniej dotyczy zdanie oznaczone cyfrą

- A. 1. C. 3.
B. 2. D. 4.

4 Uporządkuj podane akty prawne zgodnie z hierarchią ich ważności. Odpowiadające im litery wpisz we właściwe kratki. Najwyżej umieść najważniejszy dokument.

0–1 p.



5 Do każdej zasady ustroju państwa przyporządkuj odpowiedni zapis z *Konstytucji RP*. Wybierz go spośród fragmentów oznaczonych literami A–D. W każdym wierszu tabeli zaznacz właściwą literę.

0–1 p.

1.	Zasada państwa prawa	A	B	C	D
2.	Zasada pluralizmu politycznego	A	B	C	D

- A. Władza zwierzchnia w Rzeczypospolitej Polskiej należy do Narodu.
 B. Rzeczpospolita Polska jest dobrem wspólnym wszystkich obywateli.
 C. Organy władzy publicznej działają na podstawie i w granicach prawa.
 D. Rzeczpospolita Polska zapewnia wolność tworzenia i działania partii politycznych.

6 Przeczytaj tekst i wykonaj polecenia.

0–2 p.

Konstytucja Rzeczypospolitej Polskiej (fragment)

Art. 125

1. W sprawach o szczególnym znaczeniu dla państwa może być przeprowadzone referendum ogólnokrajowe.
2. Referendum ogólnokrajowe ma prawo zarządzić Sejm bezwzględną większością głosów w obecności co najmniej połowy ustawowej liczby posłów lub Prezydent Rzeczypospolitej za zgodą Senatu wyrażoną bezwzględną większością głosów w obecności co najmniej połowy ustawowej liczby senatorów.
3. Jeżeli w referendum ogólnokrajowym wzięło udział więcej niż połowa uprawnionych do głosowania, wynik referendum jest wiążący.
4. Ważność referendum ogólnokrajowego [...] stwierdza Sąd Najwyższy.

6.1. Podaj nazwę organu władzy ustawodawczej, który może zarządzić referendum ogólnokrajowe w Polsce.

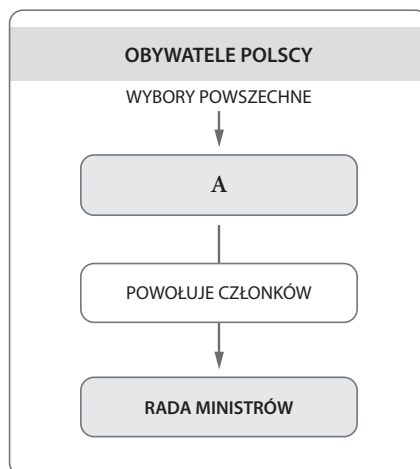
Organ władzy ustawodawczej: _____

6.2. Określ, ilu – co najmniej – senatorów musi wziąć udział w głosowaniu, aby mogła zostać podjęta decyzja o przeprowadzeniu referendum ogólnokrajowego.

Liczba senatorów: _____

7 Podaj nazwę organu władzy, który na schemacie został oznaczony literą A.

0-1 p.



Organ władzy: _____

8 Podaj imię i nazwisko osoby, która pełniła w Polsce urząd prezydenta w okresie wyróżnionym na osi czasu.

0-1 p.



9 Zapoznaj się z danymi zaprezentowanymi w tabeli i wykonaj polecenie.

0-1 p.

Wybory parlamentarne w 2011 r. – podział mandatów w sejmie

Nazwa komitetu	Liczba mandatów
Komitet Wyborczy Platforma Obywatelska RP	207
Komitet Wyborczy Prawo i Sprawiedliwość	157
Komitet Wyborczy Ruch Palikota	40
Komitet Wyborczy Polskie Stronnictwo Ludowe	28
Komitet Wyborczy Sojusz Lewicy Demokratycznej	27
Komitet Wyborczy Wyborców Mniejszość Niemiecka	1

Źródło: <http://pkw.gov.pl/>.

Wyjaśnij, dlaczego po wyborach parlamentarnych w 2011 r. Platforma Obywatelska nie utworzyła rządu samodzielnie, lecz zawiązała koalicję z Polskim Stronnictwem Ludowym.

Grupa B

10 Przeczytaj tekst i zaznacz właściwe dokończenie zdania.

0–1 p.

Do jego zadań należy rozpoznawanie spraw wniesionych do sądu i wydawanie wyroków w imieniu państwa.

Stwierdzenie dotyczy obowiązków

- A. prokuratora.
- B. świadka.
- C. adwokata.
- D. sędziego.

11 Zapoznaj się z opisem sytuacji i wykonaj polecenie.

0–2 p.

Janina W. została skazana w procesie karnym, który odbył się w sądzie rejonowym. Nie zgodziła się z tą decyzją i odwołała się od wyroku.

Uzupełnij zdania właściwymi informacjami.

1. Odwołanie wniesione przez Janinę W. rozpatrzy _____.
[nazwa właściwego sądu]
2. Przez wniesienie odwołania Janina W. skorzystała z prawa wynikającego z zasady _____.
[jedna z zasad działania sądów]

12 Przeczytaj tekst i zaznacz właściwe dokończenie zdania.

0–1 p.

Korzyści wynikające z przynależności do organizacji

- Pomoc silnej grupy w razie problemów w pracy.
- Większa możliwość wynegocjowania lepszych warunków pracy bądź podwyżki.
- Pomoc w razie dyskryminacji, przemocy, czy też niesprawiedliwego traktowania.
- Możliwość pomocy innym pracownikom.
- Możliwość skorzystania z porad ekspertów [...], a także prawników.

Źródło: strona internetowa jednej z organizacji.

W tekście wymieniono korzyści wynikające z przynależności do

- A. partii politycznej.
- B. związku zawodowego.
- C. stowarzyszenia.
- D. fundacji.

13 Zapoznaj się z podanymi stwierdzeniami i wykonaj polecenie.

0–2 p.

- A. Kampania społeczna to akcja informacyjna skierowana do członków społeczeństwa.
- B. Twórcy kampanii społecznych wykorzystują metody stosowane w reklamach produktów.
- C. Kampanie społeczne mają decydujący wpływ na opinię publiczną.
- D. Adresatami większości kampanii społecznych powinni być młodzi ludzie.
- E. Należy wspierać twórców kampanii społecznych.

Wskaż dwa zdania, w których zawarte są opinie. Zapisz przyporządkowane im litery w wyznaczonych miejscach.
